


高校講座 物理基礎

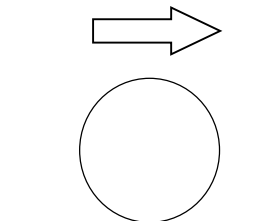
15.力の種類

次の物体にはたらく力を図示しなさい。

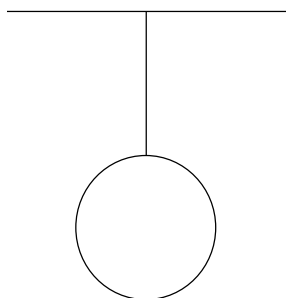
(1) 床の上で静止しているボール。



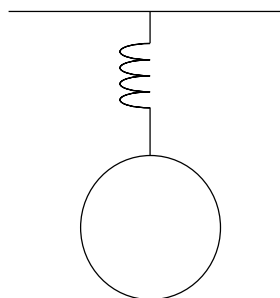
(2) あらい床の上で運動しているボール。



(3) 糸で天井につるされたボール。



(4) ばねで天井につるされたボール。



(5) 水の中で静止しているボール。

